



# I TRE STATI DELLA MATERIA


Qual è lo stato della materia in ogni immagine? Segna la casella giusta.



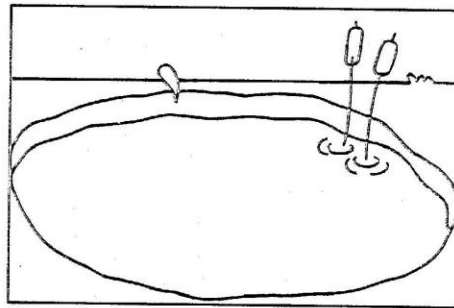
solido    liquido    gassoso



solido    liquido    gassoso




solido    liquido    gassoso

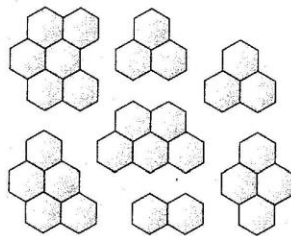


solido    liquido    gassoso

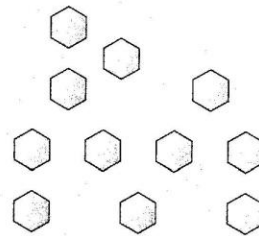
Scrivi sotto ogni disegno se si tratta di molecole di un liquido, di un solido o di un gas.



Molecole di un  
.....  
unite strettamente.



Molecole di un  
.....  
non unite strettamente.



Molecole di un  
.....  
che si allontanano.