





I gelati

Per il suo compleanno, Laura vuole offrire 8 gelati alle sue amichette. Per accontentarle tutte, Laura pensa di scegliere gelati di gusti diversi: al cioccolato, alla fragola, alla crema e al limone.

- Per sapere quanti potrebbero essere i gelati di ciascun gusto, completa la tabella disegnando i gelati.

gelati alla crema	gelati al limone	gelati al cioccolato	gelati alla fragola	numero dei gelati
				8
				8
				8
				8
				8
				8

- Tra quante combinazioni diverse di gelati può scegliere Laura? _____
- Secondo te è ancora possibile trovare altre combinazioni? _____