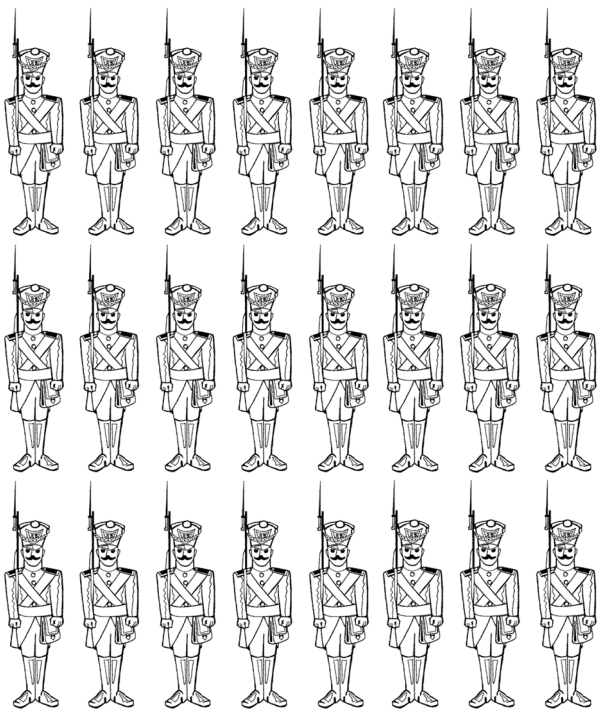


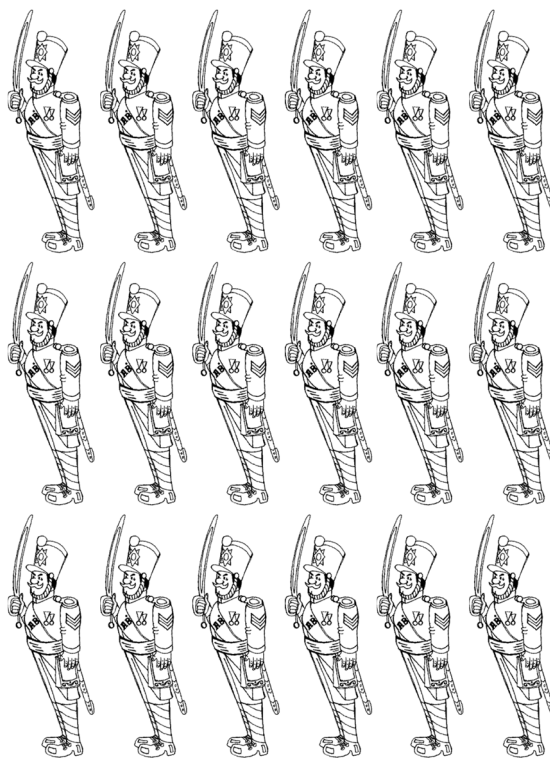

Osserva ogni schieramento,
rispondi alle domande, poi
scrivi la moltiplicazione



Quanti soldatini in ogni
riga?.....
Quante sono le righe?

Quanti sono i soldatini
in tutto?.....

.....X.....=.....



Quanti soldatini in ogni
riga?.....
Quante sono le righe?.....
Quanti sono i soldatini in
tutto?.....

.....X.....=.....

Quanti soldatini in ogni
riga?.....
Quante sono le righe?.....
Quanti sono i soldatini in
tutto?.....

.....X.....=.....