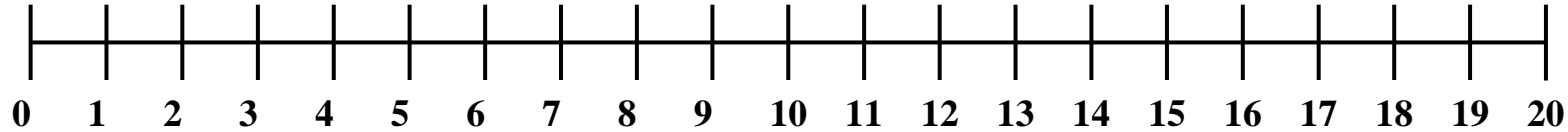


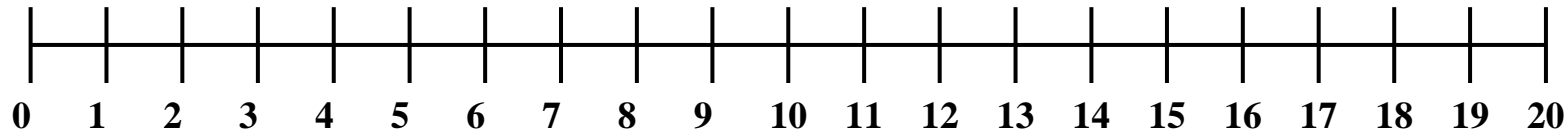

I salti della rana

La rana parte da 0 e fa tre salti, poi si ferma a riposare e fa altri due salti. A quale numero arriva?



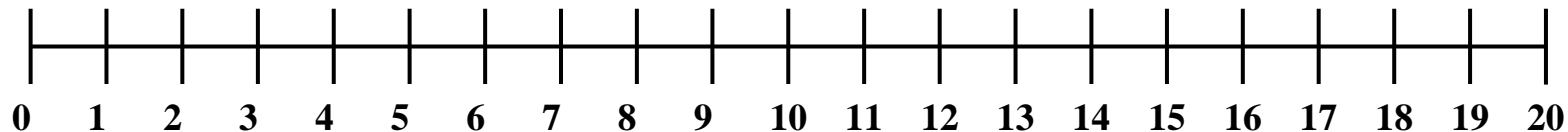

$$3+2=\dots\dots$$

La rana parte da 0 e fa cinque salti, poi si ferma a riposare e fa altri tre salti. A quale numero arriva?



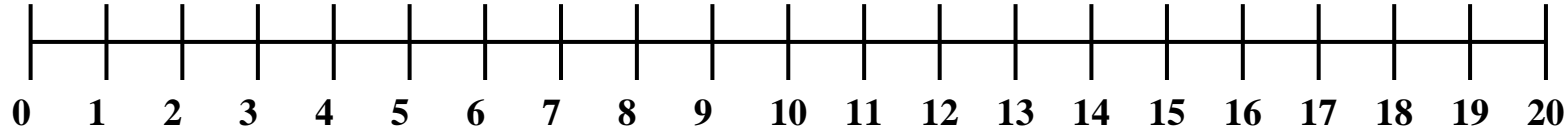

$$5+3=\dots\dots$$

La rana parte da 0 e fa otto salti, poi si ferma a riposare e fa altri due salti. A quale numero arriva?



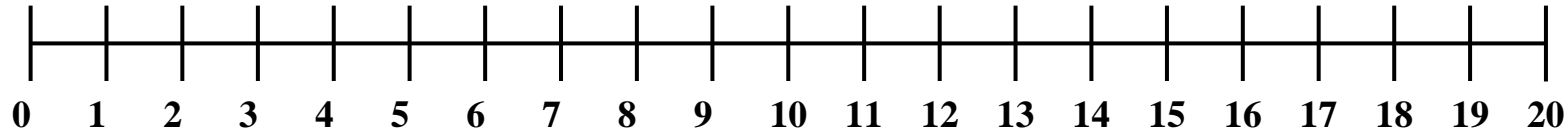
$$8+2=\dots\dots$$

La rana parte da 0 e fa cinque salti, poi si ferma a riposare e fa altri cinque salti. A quale numero arriva?



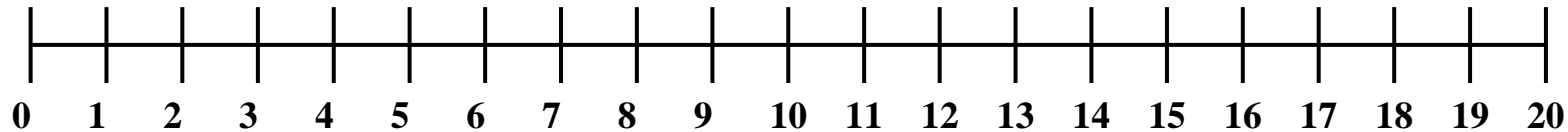

$$5+5=.....$$

La rana parte da 0 e fa sei salti, poi si ferma a riposare e fa altri cinque salti. A quale numero arriva?



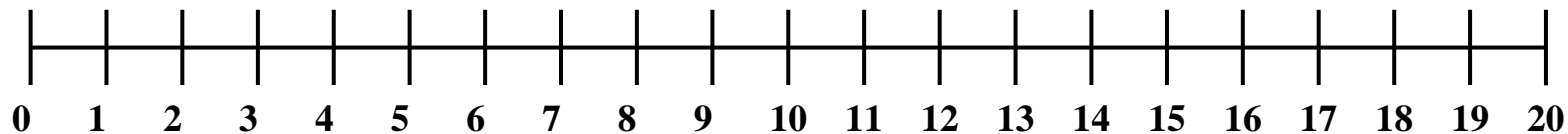

$$6+5=.....$$

La rana parte da 0 e fa otto salti, poi si ferma a riposare e fa altri quattro salti. A quale numero arriva?



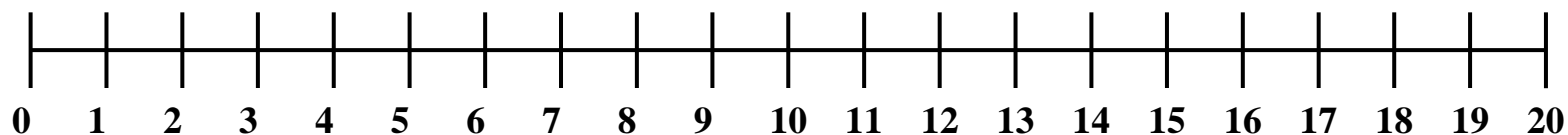

$$8+4=.....$$

La rana parte da 0 e fa nove salti, poi si ferma a riposare e fa altri sei salti. A quale numero arriva?



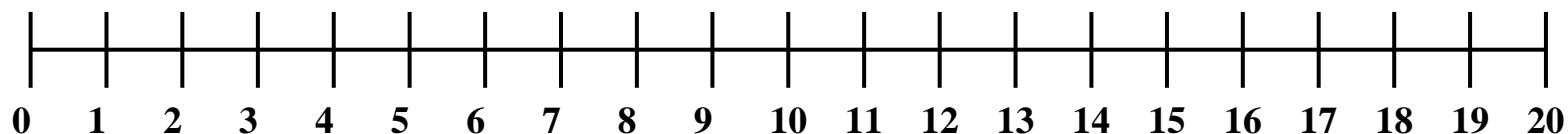

$$9+6=.....$$

La rana parte da 0 e fa otto salti, poi si ferma a riposare e fa altri otto salti. A quale numero arriva?



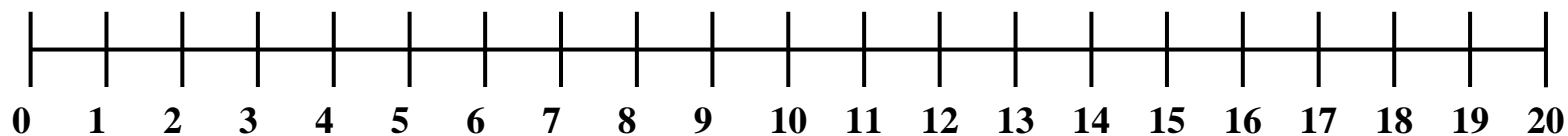

$$8+8=.....$$

La rana parte da 0 e fa cinque salti, poi si ferma a riposare e fa altri sette salti. A quale numero arriva?



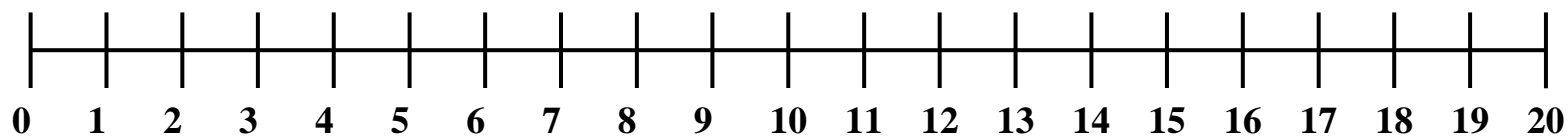
$$5+7=.....$$

La rana parte da 0 e fa nove salti, poi si ferma a riposare e fa altri tre salti. A quale numero arriva?



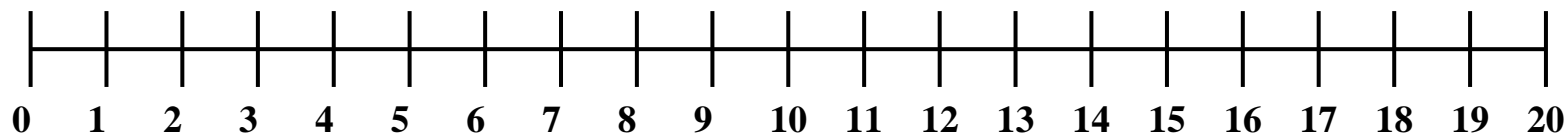
$$9+9=.....$$

La rana parte da 0 e fa otto salti, poi si ferma a riposare e fa altri sei salti. A quale numero arriva?



$$8+6=.....$$

La rana parte da 0 e fa dieci salti, poi si ferma a riposare e fa altri dieci salti. A quale numero arriva?



$$10+10=.....$$